

平抛运动平均速度等于该时间段中间时刻瞬时速度吗?

王智荣

(山西省实验中学 山西 太原 030031)

(收稿日期:2017-03-01)

摘要:证明了平抛运动与匀变速直线运动一样满足,一段时间的平均速度等于这段时间中间时刻的瞬时速度,并举例说明用该结论解题的便捷性.

关键词:平抛运动 平均速度 中间时刻瞬时速度

1 问题的提出

从人教版《物理·必修2》第一章起,学生开始认识曲线运动.其中平抛运动是一种非常特殊的曲线运动,它的加速度是重力加速度,保持不变,所以从运动性质上来讲属于匀变速的曲线运动.既然同为匀变速运动,那么会不会和必修1中的匀变速直线运动类似,有些运动学公式可以通用呢?对于匀变速直线运动,某段时间的平均速度等于这段时间中间时刻的瞬时速度,即 $\bar{v} = v_{\frac{t}{2}}$,那么对于平抛运动这个式子依然成立吗?答案是肯定的.

2 问题分析

2.1 大小相等的证明

先做一个简单的证明.既然划等号意味着不仅大小上两者相等,方向上平均速度的方向也应该和中间时刻速度的方向相同.图1所示是平抛运动的一段轨迹,物体从O点以初速度 v_0 抛出,经过一段时间 t 运动到了P点,设中间时刻的水平速度为 v_x ,竖直速度为 v_y ,先证明两者等大.

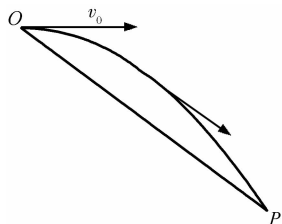


图1 物体平抛运动 t 时间的轨迹图

物体在时间 t 内的水平位移

$$x = v_0 t$$

竖直位移

$$y = \frac{1}{2} g t^2$$

合位移

$$l_{OP} = \sqrt{x^2 + y^2} = \sqrt{(v_0 t)^2 + \left(\frac{1}{2} g t^2\right)^2} = t \sqrt{v_0^2 + \left(\frac{1}{2} g t\right)^2}$$

则平均速度

$$\bar{v} = \frac{l_{OP}}{t} = \sqrt{v_0^2 + \left(\frac{1}{2} g t\right)^2}$$

又因为中间时刻速度

$$v_{\frac{t}{2}} = \sqrt{v_x^2 + v_y^2} = \sqrt{v_0^2 + \left(\frac{1}{2} g t\right)^2}$$

所以很明显大小上

$$\bar{v} = v_{\frac{t}{2}}$$

2.2 方向相同的证明

我们知道,根据平均速度的定义式,平均速度的方向和位移方向同向,所以只要我们能够证明位移的方向和中间时刻速度同向,即说明平均速度方向与中间时刻速度同向.同图1,增设这段时间位移 l_{OP} 与水平方向成角度 α ,中间时刻速度 $v_{\frac{t}{2}}$ 与水平方向成角度 β ,则有

$$\tan \alpha = \frac{y}{x} = \frac{\frac{1}{2} g t^2}{v_0 t} = \frac{\frac{1}{2} g t}{v_0}$$

$$\tan \beta = \frac{v_y}{v_x} = \frac{\frac{1}{2}gt}{v_0}$$

所以 $\tan \alpha = \tan \beta$, 即 $\alpha = \beta$. 可见方向也相同.

3 例题分析

综上, 对于平抛运动 $\bar{v} = v_{\frac{t}{2}}$ 依然成立.

有了这个结论对于有些问题就可以快速得到答案, 如下面的例1和例2.

【例1】如图2所示, 在倾角为 θ 的斜面顶端A处以初速度 v_0 水平抛出一小球, 落在斜面上的某一点B处, 设空气阻力不计, 求:

- (1) 小球从A运动到B处所需的时间;
- (2) 从抛出开始计时, 经过多长时间小球离斜面的距离达到最大.

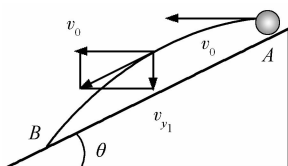


图2 例1题图

解析:(1) 由图易知, 位移方向与水平方向的夹角即为斜面倾角 θ , 则

$$\tan \theta = \frac{\frac{1}{2}gt^2}{v_0 t}$$

可得

$$t = \frac{2v_0 \tan \theta}{g}$$

(2) 由图易知, 距离斜面最远时速度方向与斜面平行, 即与从A到B全过程的位移方向平行(同向). 根据 $\bar{v} = v_{\frac{t}{2}}$, 此时的速度一定是全程的平均速度, 所以从抛出到距离最远所用时间是全程总时间的一半, 即在第(1)问的基础上除以2, 即第(2)问的答案. 如此可能比传统解法要快一些.

【例2】一位同学在“研究平抛物体的运动”实验中, 只画出了如图3所示的一部分曲线轨迹, 于是他在轨迹上取了水平距离 Δs 相等的3点A, B, C, 量得 $\Delta s = 0.2 \text{ m}$. 又量出它们之间的竖直距离分别为

$h_1 = 0.1 \text{ m}, h_2 = 0.2 \text{ m}$, 利用这些数据求解:

- (1) 物体抛出时的初速度 v_0 ;
- (2) 物体经过B时的速度 v_B .

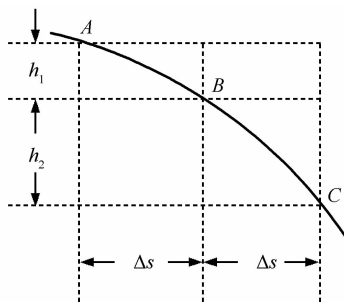


图3 例2题图

解析:(1) 因为AB和BC段水平距离相等, 则从A到B和从B到C所用时间相等, 设为 T , 则有

$$\Delta s = v_0 T \quad (1)$$

$$h_2 - h_1 = gT^2 \quad (2)$$

由式(2)解出 T , 代入式(1), 即可得到 v_0 .

(2) 对于这一问传统的解法是在第(1)问 v_0 和 T 得到的基础上, 先求出B点此时的竖直速度

$$v_y = \frac{h_1 + h_2}{2T}$$

再根据勾股定理得到B点的合速度为

$$v_B = \sqrt{v_0^2 + v_y^2}$$

运算量相对要大.

其实, B点很明显是全程中间时刻所对应的位置, 求B点速度即求中间时刻的速度, 根据公式 $\bar{v} = v_{\frac{t}{2}}$ 我们可以转化为求全程的平均速度, 而平均速度等于位移除以时间, 全程位移即斜边AC段的长度, 满足勾股数, 易得AC段长等于 0.5 m , 再除以从A到B全程总时间 $2T$, 即为答案. 运算量大大减小, 甚至口算即可得到.

4 结束语

类比迁移是物理学重要的思想方法之一, 通过这样的引导训练, 不仅有利于学生更好地理解新的知识, 还可以拓展他们的思路, 启迪他们的智慧, 我们何乐而不为呢?