



用求导法解决极值问题

郝 详

(河北保定外国语学校 河北 保定 071000)

(收稿日期:2023-08-16)

摘 要:例析用三角函数法和二次三项式性质法(配方法)解极值问题的缺点,介绍了用求导法解决物理极值问题的优势.

关键词:求导法;极值;三角函数法;配方法

极值问题在物理教学中经常出现,根据物理规律,找到物理量之间的关系,利用数学知识求解极值,是摆在每个物理教师面前的问题.

在求解极值问题时,最长用的方法是三角函数法(在2022年1月浙江省普通高校招生选考科目考试物理试题第5题用到)和二次三项式性质法(配方法,比如2012年普通高等学校招生全国统一考试浙江理综物理卷第5题用到).但是,这两种方法对有的题目效果并不好,比如下面的例题.

【例1】如图1所示,光滑小球 a 、 b 的质量均为 m , a 、 b 均可视为质点, a 、 b 用刚性轻杆连接,竖直地紧靠光滑墙壁放置,轻杆长为 l , b 位于光滑水平地面上, a 、 b 处于静止状态,重力加速度大小为 g .现对

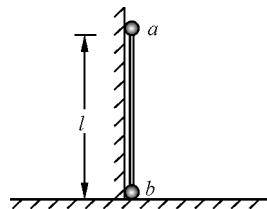


图1 例1题图

b 施加轻微扰动,使 b 开始沿水平面向右做直线运动,问:直到 a 着地的过程中,何时 b 的速度最大?

分析:对 b 施加轻微扰动使 b 开始沿水平面向右做直线运动,杆被压缩,对 a 和 b 均为推力,杆对 a 做负功,杆对 b 做正功,当杆的推力等于零时,杆对 b 做正功最多,此时 b 的速度最大,设杆与水平方向的夹角为 θ ,对系统由机械能守恒有

练学生思维的灵活性.

如新粤教版万有引力定律、机械能守恒及其定律中的例题,都有采用“一题多解”的模式,为学生解题提供了不同思路.又如新粤教版生活与生产中的抛体运动的例题,在例题原本平抛运动的物理情境的基础上,引导学生思考若运动方式变成斜抛运动该如何解题,帮助学生进行知识迁移.因此教师在讲解课堂例题时,可以基于例题原有题干进行变式训练,做到“一题多变”,有效培养学生的思维能力.

4 结束语

教材中精心编写的例题蕴含了丰富的育人素材,不同版本的教材例题虽然在编写特点上各有特

色,但归根结底都以培养学生的物理学科核心素养为目的.因此,在教学中应当最大限度体现例题的示范作用,发挥例题的育人功能,促进学生物理学科核心素养的发展.

参 考 文 献

- [1] 中华人民共和国教育部.普通高中物理课程标准(2017年版2020年修订)[S].北京:人民教育出版社,2018.
- [2] 邓沛恩,程敏熙.3版本物理教材例题的对比与分析——以动能定理为例[J].物理通报,2020(12):122-125.
- [3] 王菊香.从教材例题编写变化谈物理学科核心素养的培育——以人教版高中物理新教材为例[J].物理教学探讨,2021,39(1):19-22.
- [4] 陈宏林,邓晓敏.认知负荷理论对“高中物理习题泛图象表征方法”的启示[J].物理教学,2016,38(2):19-21.

$$mg(l - l\sin\theta) = \frac{1}{2}mv_a^2 + \frac{1}{2}mv_b^2$$

沿着杆的速度相等,有

$$v_a \sin\theta = v_b \cos\theta$$

联立解得

$$E_{kb} = \frac{1}{2}mv_b^2 = mgl(1 - \sin\theta) \sin^2\theta$$

即

$$E_{kb} = mgl(1 - \sin\theta) \sin^2\theta$$

通过观察发现,动能 E_{kb} 是关于 θ 的函数,而且是高次函数,所以用三角函数的方法有些困难.现在作函数的 $y-\theta$ 图像,如图2所示.

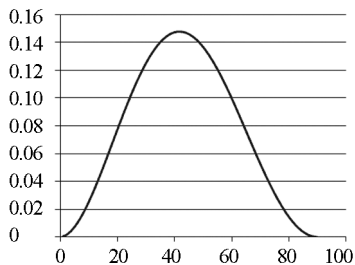


图2 $y = (1 - \sin\theta) \sin^2\theta$ 函数图像

通过图线发现,函数的最大值在 42° 左右,并不是一个特殊值,这就需要用到费马定理.由于高中阶段对此介绍是通过例题出现的,在此简单介绍一下.

费马定理这样表述:若函数 $f(x)$ 在 x_0 点有导数,并且在 x_0 的某邻域内恒有 $f(x) \leq f(x_0)$ [$f(x) \geq f(x_0)$] 成立,则 $f'(x_0) = 0$ ^[1]. 费马定理的几何意义是:如果 $f(x)$ 在 x_0 的值不小于临近的函数值[或 $f(x_0)$ 不大于临近的函数值],只要在 $[x_0, f(x_0)]$ 点曲线有切线,其切线必为水平.函数在 x_0 处的切线水平,意味着函数在此处存在极值(函数的一阶导数等于零).

例题解法:设

$$y = mgl(1 - \sin\theta) \sin^2\theta$$

对其求导,有

$$y' = 2mgl \sin\theta \cos\theta (2 - 3\sin\theta)$$

令 $y' = 0$,则有 $2 - 3\sin\theta = 0$,即 $\sin\theta = \frac{2}{3}$ 时动能取

得最大值,也就是说, $\sin\theta = \frac{2}{3}$ 时, b 的速度最大.

求导法不但可以解决三角函数的极值问题,也可以解决二次函数的极值问题.

【例2】(2017年高考全国II卷第17题)如图3所示,半圆形光滑轨道固定在水平地面上,半圆的直径与地面垂直,一小物块以速度 v 从轨道下端滑入轨道,并从轨道上端水平飞出,小物块落地点到轨道下端的距离与轨道半径有关,此距离最大时,对应的轨道半径为(重力加速度为 g)()

- A. $\frac{v^2}{16g}$ B. $\frac{v^2}{8g}$ C. $\frac{v^2}{4g}$ D. $\frac{v^2}{2g}$

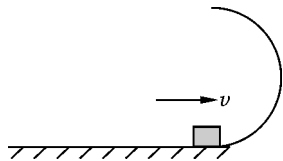


图3 例2题图

分析:设小物块运动到最高点的速度为 v_t ,半圆形光滑轨道半径为 R ,小物块由最低点运动到最高点,由机械能守恒定律,有

$$\frac{1}{2}mv_t^2 - \frac{1}{2}mv^2 = -mg \cdot 2R$$

小物块从最高点飞出做平抛运动,则

$$x = v_t t \quad 2R = \frac{1}{2}gt^2$$

联立解得

$$x = 2\sqrt{\frac{v^2}{g}R - 4R^2}$$

根式下面是一个关于 R 的二次函数,令

$$y = \frac{v^2}{g}R - 4R^2$$

则 $y' = \frac{v^2}{g} + 8R = 0$ 时函数取得极值,此时

$$R = \frac{v^2}{8g}$$

即当 $R = \frac{v^2}{8g}$ 时, x 最大,选项B正确.

用这种方法比判别式方法求二次函数极值简单高效.

通过以上例题可以看出,在求极值问题上,求导法是难得的好方法.

参考文献

- [1] 四川大学数学系高等数学教研室. 高等数学[M]. 北京: 高等教育出版社,1993.
[2] 李龙才,周远方. 高中数学选择性必修二[M]. 北京: 人民教育出版社,2019:84.